

TD6
Intégrales multiples

Exercice 1. Donner la représentation graphique de A et calculer l'intégrale $I = \iint_A f(x, y) dx dy$ dans les cas suivants :

1. $A = \{(x, y) \in \mathbb{R}^2 / 0 \leq x \leq 1, 0 \leq y \leq 2\}$ et $f(x, y) = x + y$
2. $A = \{(x, y) \in \mathbb{R}^2 / 0 \leq x \leq 1, 0 \leq y \leq x\}$ et $f(x, y) = x + y$
3. $A = \{(x, y) \in \mathbb{R}^2 / 0 \leq x \leq y, 1 \leq y \leq 2\}$ et $f(x, y) = ye^{x/y}$
4. $A = \{(x, y) \in \mathbb{R}^2 / x^2 + y^2 - 2y \geq 0, x^2 + y^2 - 1 \leq 0, x \geq 0, y \geq 0\}$ et $f(x, y) = \sqrt{x^2 + y^2}$

Exercice 2. (I) Donner la représentation graphique du domaine D et calculer l'intégrale $\int_D f(x, y) dx dy$ dans les cas suivants:

1. $f(x, y) = x$ et $D = \{(x, y) \in \mathbb{R}^2, y \geq 0, x - y + 1 \geq 0; x + 2y - 4 \leq 0\}$
2. $f(x, y) = x + y$ et $D = \{(x, y) \in \mathbb{R}^2, 0 \leq x \leq 1; x^2 \leq y \leq x\}$
3. $f(x, y) = \cos(xy)$ et $D = \{(x, y) \in \mathbb{R}^2, 1 \leq x \leq 2; 0 \leq xy \leq \frac{\pi}{2}\}$
4. $f(x, y) = xy$ et $D = \{(x, y) \in \mathbb{R}^2, x \geq 0; y \geq 0, xy + x + y \leq 1\}$
5. $f(x, y) = \frac{1}{(x+y)^3}$ et $D = \{(x, y) \in \mathbb{R}^2, 1 \leq x \leq 3; y \geq 2, x + y \leq 5\}$
6. $f(x, y) = x^2$ et $D = \{(x, y) \in \mathbb{R}^2; x \leq 1, y \geq 0; y^2 \leq x\}$
7. $f(x, y) = x^2$ et D est l'intérieur de l'ellipse d'équation

$$\frac{x^2}{a^2} + \frac{y^2}{b^2} = 1, \quad a, b \in \mathbb{R}^{+*}$$

8. $f(x, y) = \frac{1}{(1+x^2)(1+y^2)}$ et $D = \{(x, y) \in \mathbb{R}^2; 0 \leq y \leq x \leq 1\}$
9. $f(x, y) = \sin(x + y)$ et $D = \{(x, y) \in \mathbb{R}^2; x \geq 0, y \geq 0, x + y \leq \pi\}$
10. $f(x, y) = yx^2$ et $D = \{(x, y) \in \mathbb{R}^2; x \leq 1, y \geq 0, y^2 \leq x\}$
11. On pose $D = [0, 1] \times [0, 1]$ Déterminer la limite quand $n \mapsto +\infty$ de

$$\int_D \frac{dx dy}{1 + x^n + y^n}$$

12. $f(x, y) = \sqrt{x^2 + y^2}$ et $D = \{(x, y) \in \mathbb{R}^2; x^2 + y^2 - 2x \leq 0\}$

Exercice 3. Calculer l'aire du domaine D suivant $D = \{(x, y) \in \mathbb{R}^2, -1 \leq x \leq 1; x^2 \leq y \leq 4 - x^3\}$

Exercice 4. Le but de l'exercice est de calculer l'intégrale

$$I = \int_0^1 \frac{\ln(1+x)}{1+x^2} dx.$$

1. Montrer que $\forall x \in]-1, +\infty[$, o, a

$$\ln(1+x) = \int_0^1 \frac{x}{1+xy} dy.$$

En déduire que

$$I = \int_D \frac{x}{(1+x^2)(1+xy)} dx dy$$

où $D = [0, 1] \times [0, 1]$.

2. En intervertissant les rôles de x et y , motrer que

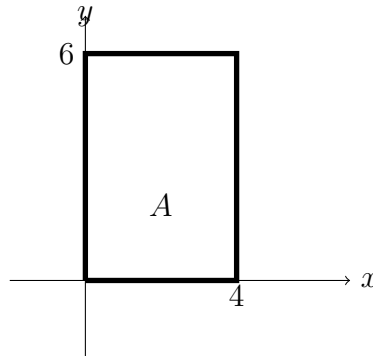
$$2I = \int_D \frac{x+y}{(1+x^2)(1+y^2)} dx dy$$

En déduire que

$$I = \frac{\pi}{8} \ln 2.$$

Solution

1. Tracer un rectangle.



$$\begin{aligned} \iint_A f(x,y) dx dy &= \int_0^1 \left(\int_0^1 (x+y) dy \right) dx = \int_0^1 \left[xy + \frac{1}{2}y^2 \right]_0^1 dx \\ &= \int_0^1 \left(x + \frac{1}{2} \right) dx = 1 \end{aligned}$$

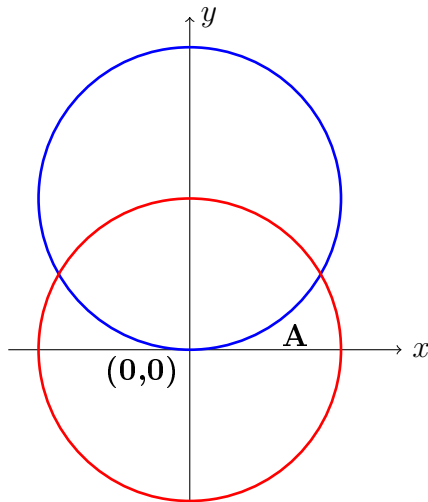
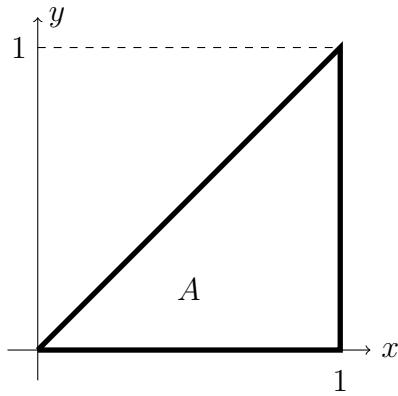
2. Tracer un triangle (j'ai changé d'échelle).

3. Calcul de l'intégrale:

$$\begin{aligned} \iint_A f(x,y) dx dy &= \int_0^1 \left(\int_0^x (x+y) dy \right) dx = \int_0^1 \left[xy + \frac{1}{2}y^2 \right]_0^x dx \\ &= \int_0^1 \left(x^2 + \frac{1}{2}x^2 \right) dx = \frac{3}{2} \int_0^1 x^2 dx = \frac{1}{2} \end{aligned}$$

Exercice 5. Soient $A = \{(x,y) \in \mathbb{R}^2, x^2 + y^2 - 2y \geq 0, x^2 + y^2 - 1 \leq 0, x \geq 0; y \geq 0\}$ et $f(x,y) = \sqrt{x^2 + y^2}$.

1. Donner la représentation graphique de A .



2. Calculer en utilisant le changement de variable approprié l'intégrale $I = \iint_A f(x,y) dx dy$.

Solution

1. La figure de A est la partie extérieure au cercle $C((0,1),1)$ et intérieure au cercle $C((0,0),1)$.
2. On pose

$$\begin{cases} x = r \cos \theta \\ y = r \sin \theta \end{cases} \quad (1)$$

Pour chaque $r \in [0,1]$ l'angle θ peut varier de 0 jusqu'à un certain angle $\theta(r)$ dépendant de r . En cet angle et à la distance r on a

$$\begin{cases} x^2 + y^2 = r^2 \\ x^2 + y^2 = 2y \end{cases} \quad (2)$$

et donc

$$y = \frac{r^2}{2} = r \sin \theta(r)$$

c'est à dire :

$$\sin \theta(r) = \frac{r}{2}$$

ou encore

$$\theta(r) = \arcsin \frac{r}{2}$$

$$I = \iint_A \sqrt{x^2 + y^2} dx dy = \int_0^1 \int_0^{\theta(r)} \sqrt{r^2} r dr d\theta$$

$$\begin{aligned}
&= \int_0^1 r^2 \theta(r) dr \\
&= \int_0^1 r^2 \arcsin \frac{r}{2} dr
\end{aligned}$$

On pose $\frac{r}{2} = \sin t$ et donc $dr = 2 \cos t dt$ On a :

$r = 0$	\implies	$\sin t = 0$	\implies	$t = 0$
$r = 1$	\implies	$\sin t = \frac{1}{2}$	\implies	$t = \frac{\pi}{6}$

$$I = 8 \int_0^{\frac{\pi}{6}} t \sin^2 t \cos t dt$$

On pose par parties :

$$\begin{cases} u = t \Rightarrow u' = 1 \\ v' = \sin^2 t \cos t \Rightarrow v = \frac{1}{3} \sin^3 t \end{cases}$$

Et donc

$$\begin{aligned}
\frac{I}{8} &= \frac{1}{3} [t \sin^3 t]_0^{\frac{\pi}{6}} - \int_0^{\frac{\pi}{6}} \frac{1}{3} \sin^3 t dt \\
&= \frac{1}{3} \frac{\pi}{6} \left(\frac{1}{2}\right)^3 - \frac{1}{3} \int_0^{\frac{\pi}{6}} (1 - \cos^2 t) \sin t dt \\
&= \frac{\pi}{48} - \frac{1}{3} \left(\int_0^{\frac{\pi}{6}} \sin t dt - \int_0^{\frac{\pi}{6}} \cos^2 t \sin t dt \right) \\
&= \frac{\pi}{48} + \frac{1}{3} [\cos t]_0^{\frac{\pi}{6}} + \frac{1}{3} [\cos^3 t]_0^{\frac{\pi}{6}} \\
&= \frac{\pi}{48} + \frac{1}{3} \left(\frac{\sqrt{3}}{2} - 1 + \left(\frac{\sqrt{3}}{2}\right)^3 - 1 \right)
\end{aligned}$$

c'est à dire

$I = \frac{\pi}{6} + \frac{7\sqrt{3}}{3} - \frac{16}{3}$
--

Exercice 6. 1. Calculer l'intégrale $I = \int_D x^y dx dy$ avec $D = [0, 1] \times [a, b]$, $b > a > 0$.

2. En déduire la valeur de $\int_0^1 \frac{x^b - x^a}{\ln x} dx$.

Solution

1. On intègre selon x puis selon y dans cet ordre.

$$\begin{aligned}
I &= \iint_D x^y dx dy = \int_a^b \left(\int_0^1 x^y dx \right) dy = \int_a^b \left[\frac{x^{y+1}}{y+1} \right]_0^1 dy \\
&= \int_a^b \frac{dy}{y+1} = \ln \left(\frac{b+1}{a+1} \right)
\end{aligned}$$

2. On intègre selon y puis selon x

$$\begin{aligned} I &= \iint_D x^y dx dy = \int_0^1 \left(\int_a^b x^y dy \right) dx = \int_0^1 \left(\int_a^b e^{y \ln x} dy \right) dx \\ &= \int_0^1 \left[\frac{x^y}{\ln x} \right]_a^b dx = \int_0^1 \frac{x^b - x^a}{\ln x} \end{aligned}$$

On déduit de (1) que

$$\int_0^1 \frac{x^b - x^a}{\ln x} = \ln \left(\frac{b+1}{a+1} \right)$$

Exercice 7. Déterminer la représentation graphique de A et calculer son aire dans les cas suivants :

1. $A = \{(x, y) \in \mathbb{R}^2 / |x + y| \leq 1, 0 \leq x \leq 1\}$
2. $A = \{(x, y) \in \mathbb{R}^2 / x^2 + y^2 - 2y \geq 0, x^2 + y^2 - 1 \leq 0, x \geq 0, y \geq 0\}$

Solution

1. Le graphe :

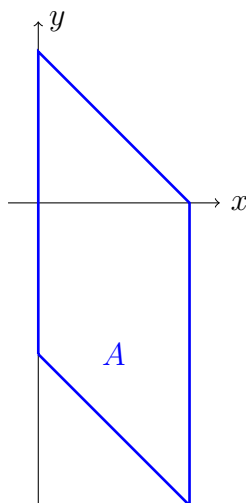


Figure 1: Le graphe de $A = \{(x, y) \in \mathbb{R}^2 / |x + y| \leq 1, 0 \leq x \leq 1\}$

$$\text{Aire}(A) = \iint_A 1 dx dy = \int_0^1 \left(\int_{-1-x}^{1-x} 1 dy \right) dx = \int_0^1 (1 - x + 1 + x) dx = \int_0^1 2 dx = 2$$

2. Le graphe de A de cette question est dans la solution de l'exercice 2.

$$\begin{aligned} \text{Aire}(A) &= \iint_A 1 dx dy = \int_0^1 \int_0^{\theta(r)} r dr d\theta \\ &= \int_0^1 r \theta(r) dr = \int_0^1 r \arcsin \frac{r}{2} dr \end{aligned}$$

On pose $\frac{r}{2} = \sin t$ et donc $dr = 2 \cos t dt$

$$\text{Aire}(A) = 4 \int_0^{\frac{\pi}{6}} t \sin t \cos t dt = \int_0^{\frac{\pi}{6}} 2t \sin(2t) dt$$

On pose

$$\begin{aligned} u &= t & \text{et donc } u' &= 1 \\ v' &= 2 \sin(2t) & \text{et donc } v &= -\cos(2t). \end{aligned}$$

D'où

$$\begin{aligned} \text{Aire}(A) &= [uv]_0^{\frac{\pi}{6}} - \int_0^{\frac{\pi}{6}} u'v dt \\ \text{Aire}(A) &= [-t \cos(2t)]_0^{\frac{\pi}{6}} + \int_0^{\frac{\pi}{6}} \cos(2t) dt \\ &= -\frac{\pi}{6} \cos\left(\frac{\pi}{3}\right) + \frac{1}{2} [\sin(2t)]_0^{\frac{\pi}{6}} \\ &= \frac{\sqrt{3}}{4} - \frac{\pi}{12} \\ \text{Aire}(A) &= \frac{3\sqrt{3} - \pi}{12} \end{aligned}$$

SI CE N'EST PAS FAUX C'EST QUE C'EST JUSTE!

Exercice 8. Soit $A = \{(x, y, z) \in \mathbb{R}^3 / x \geq 0, y \geq 0, z \geq 0, x^2 + y^2 + z^2 \leq 1\}$. Calculer $\iiint_A \frac{xy}{x^2 + y^2 + z^2} dx dy dz$.

Solution

On passe aux coordonnées sphériques:

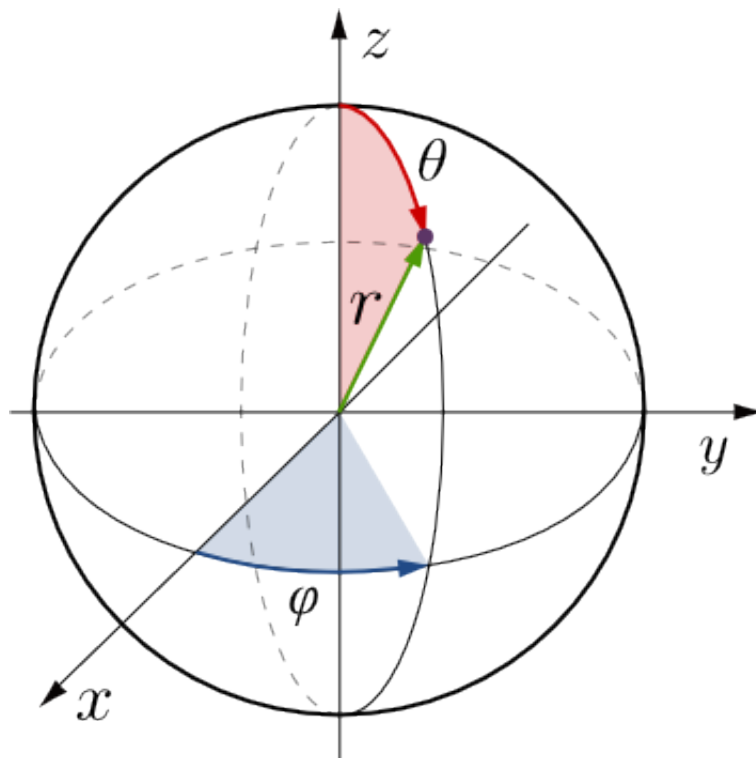


Figure 2: Coordonnées sphériques

$$\begin{cases} x = r \sin \theta \cos \varphi \\ y = r \sin \theta \sin \varphi \\ z = r \cos \theta \end{cases}$$

et donc

$$\begin{cases} dx = \sin \theta \cos \varphi dr + r \cos \theta \cos \varphi d\theta - r \sin \theta \sin \varphi d\varphi \\ dy = \sin \theta \sin \varphi dr + r \cos \theta \sin \varphi d\theta + r \sin \theta \cos \varphi d\varphi \\ dz = \cos \theta dr - r \sin \theta d\theta \end{cases}$$

c'est à dire :

$$\begin{pmatrix} dx \\ dy \\ dz \end{pmatrix} = \begin{pmatrix} \sin \theta \cos \varphi & r \cos \theta \cos \varphi & -r \sin \theta \sin \varphi \\ \sin \theta \sin \varphi & r \cos \theta \sin \varphi & r \sin \theta \cos \varphi \\ \cos \theta & -r \sin \theta & 0 \end{pmatrix} \begin{pmatrix} dr \\ d\theta \\ d\varphi \end{pmatrix} = J \begin{pmatrix} dr \\ d\theta \\ d\varphi \end{pmatrix}$$

Quand on passe des coordonnées cartésiennes aux coordonnées sphériques, $dx dy dz$ est remplacé par $\det(J) dr d\theta d\varphi$. On calcule le déterminant de la matrice J , et si on ne se trompe pas on obtient.

$$\det(J) = r^2 \sin \theta$$

Calculons l'intégrale :

$x \geq 0, y \geq 0, z \geq 0$ correspond à $0 \leq \theta \leq \frac{\pi}{2}, 0 \leq \varphi \leq \frac{\pi}{2}$
et $x^2 + y^2 + z^2 \leq 1$ correspond à $0 \leq r \leq 1$.

$$\begin{aligned} I &= \int_0^1 \int_0^{\frac{\pi}{2}} \int_0^{\frac{\pi}{2}} r^2 \sin^3 \theta \sin \varphi \cos \varphi dr d\theta d\varphi \\ &= \int_0^1 r^2 dr \int_0^{\frac{\pi}{2}} \sin^3 \theta d\theta \int_0^{\frac{\pi}{2}} \sin \varphi \cos \varphi d\varphi \\ &= \left[\frac{r^3}{3} \right]_0^1 \int_0^{\frac{\pi}{2}} \sin^3 \theta d\theta \left[\frac{\sin^2 \varphi}{2} \right]_0^{\frac{\pi}{2}} = \frac{1}{6} \int_0^{\frac{\pi}{2}} \sin^3 \theta d\theta = \frac{1}{9} \end{aligned}$$


Exercice 9. On pose

$$I = \iiint_A xyz dx dy dz$$

avec

$$D = \{(x, y, z) \in \mathbb{R}^3 / x \leq 0, y \leq 0, 0 \leq z \leq 1 \text{ et } z^2 - x^2 - y^2 \geq 0\}$$

1. Ecrire I sous la forme $\int_{z_1}^{z_2} z \left(\iint_{D_z} xy dx dy \right) dz$, en précisant z_1, z_2 et D_z .
2. Par passage en coordonnées polaires calculer $\iint_{D_z} xy dx dy$.
3. En déduire la valeur de I .



Solution

$I = \int_0^1 z \left(\iint_{D_z} xy \, dx \, dy \right) dz$ avec

$$D_z = \{(x, y) \in \mathbb{R}^2, x \leq 0, y \leq 0, x^2 + y^2 \leq 1\}$$

1. $\iint_{D_z} xy \, dx \, dy = ?$

On passe aux coordonnées polaires

$$\begin{cases} x = r \cos \theta \\ y = r \sin \theta \end{cases}$$

avec, puisque x et y sont négatifs et $x^2 + y^2 = r^2 \leq z^2$

$$0 \leq r \leq z, \quad \text{et } \theta \in \left[\pi, \frac{3\pi}{2} \right]$$

$$\begin{aligned} \iint_{D_z} xy \, dx \, dy &= \int_0^z \int_{\pi}^{\frac{3\pi}{2}} r^3 \cos \theta \sin \theta \, dr \, d\theta \\ &= \frac{z^4}{4} \frac{1}{2} [\sin^2 \theta]_{\pi}^{\frac{3\pi}{2}} = \frac{z^4}{8} \end{aligned}$$

2. La calcul de l'intégrale globale

$$I = \int_0^1 \frac{z^4}{8} dz = \frac{1}{40}$$

Exercice 10. Soit V la partie de \mathbb{R}^3 définie par

$$V = \left\{ (x, y, z) \in \mathbb{R}^3 / \frac{x^2}{a^2} + \frac{y^2}{b^2} + \frac{z^2}{c^2} \leq 1 \right\} \text{ avec } a, b, c > 0.$$

1. Calculer le volume de V .

2. Calculer l'intégrale $\iiint_V x \, dx \, dy \, dz$.

Exercice 11. Soit $\phi : \mathbb{R}^2 \rightarrow \mathbb{R}^2$ l'application définie par $\phi(x, y) = (x^2 - y^2, 2xy) = (X, Y)$.

1. Vérifier que $X^2 + Y^2 = (x^2 + y^2)^2$.

2. Calculer le Jacobien de ϕ en tout point $(x, y) \in \mathbb{R}^2$.

3. Soit $D = \{(x, y) \in \mathbb{R}^2 / 1 \leq x^2 - y^2 \leq 4 \text{ et } 1 \leq xy \leq 2\}$.

a) Donner la représentation graphique de D .

b) En utilisant le changement de variables $X = x^2 - y^2, Y = 2xy$, calculer l'intégrale $\iint_D (x^2 + y^2)^3 \, dx \, dy$.

Exercice 12. On considère l'intégrale $I_a = \iint_{A_a} e^{-\frac{1}{2}(x^2+y^2)} \, dx \, dy$ avec $A_a = \{(x, y) \in \mathbb{R}^2 / x^2 + y^2 \leq a^2\}, a > 0$.

1. Calculer I_a en fonction de a . En déduire $\lim_{a \rightarrow +\infty} I_a$.

2. On considère le rectangle $R_a = [-a, a] \times [-a, a]$ et $J_a = \iint_{R_a} e^{-\frac{1}{2}(x^2+y^2)} dx dy$. Calculer l'intégrale simple $\int_{-a}^a e^{-\frac{1}{2}x^2} dx$ en fonction de J_a .
3. En utilisant les questions 1 et 2, calculer la valeur de l'intégrale de Gauss $\int_{-\infty}^{+\infty} e^{-\frac{1}{2}x^2} dx$.

Exercice 13. 1. a) Calculer l'intégrale $I_n = \iint_{C_n} e^{-x} \cos y dx dy$ avec $C_n = \{(x, y) \in \mathbb{R}^2 / 0 \leq y \leq x \leq n\}$, $n \in \mathbb{N}^*$.

b) En déduire $I = \iint_C e^{-x} \cos y dx dy$ avec $C = \{(x, y) \in \mathbb{R}^2 / 0 \leq y \leq x\}$.

2. a) Calculer l'intégrale $J_n = \iint_{D_n} (x - y) \cos(x + y) dx dy$ avec $D_n = \{(x, y) \in \mathbb{R}^2 / 0 \leq x - y \leq x + y \leq n\}$, $n \in \mathbb{N}^*$.

b) Étudier la nature de l'intégrale $\iint_D (x - y) \cos(x + y) dx dy$ avec $D = \{(x, y) \in \mathbb{R}^2 / 0 \leq x - y \leq x + y\}$.